

## نمونه سوالات آیین نامه رانندگی تست درایو

[www.test-drive.ir](http://www.test-drive.ir)

هنرجوی گرامی وب سایت تست درایو برای آمادگی شما عزیزان در آزمون آیین نامه مقدماتی و آیین نامه اصلی اقدام به جمع آوری نمونه سوالات آیین نامه رانندگی بر اساس کتاب جدید آیین نامه راهنمایی و رانندگی نموده است. همچنین برای راحتی شما عزیزان، ما برای شما آزمون های آزمایشی آیین نامه مقدماتی و اصلی طراحی کرده ایم، فقط کافیست وارد آزمون ها شوید و سوالات را پاسخ دهید و در انتها نقاط قوت و ضعف خود را به صورت کارنامه مشاهده نمایید.

# آزمون آنلاین مقدماتی آیین نامه

برای شروع آزمون کلیک کنید

# آزمون آنلاین اصلی آیین نامه

برای شروع آزمون کلیک کنید

آزمون آیین نامه راهنمایی و رانندگی - تست درایو

۱. در مبحث علائم عبور و مرور کدام رنگ مفهوم مناطق تفریحی، فرهنگی و گردشگری را بیان می‌کند؟

- الف. قرمز      ب. آبی      ج. قهوه‌ای      د. زرد
- پاسخ صحیح: ج

۲. مفهوم تابلوهای مثلثی شکل راهنمایی چیست؟

- الف. خطر      ب. احتیاط      ج. ممنوعیت      د. هیچکدام
- پاسخ صحیح: ب

۳. اولین مرحله در روشن کردن صحیح خودرو چیست؟

- الف. دنده      ب. کلاچ      ج. گاز      د. موارد الف و ب
- پاسخ صحیح: ب

۴. ورود و عبور عابرین پیاده در آزادراهها ...؟

- الف. آزاد است      ب. ممنوع است      ج. تفاوتی ندارد      د. با احتیاط مجاز است
- پاسخ صحیح: ب

۵. علت سر خوردن خودرو در شرایط یخبندان کدام عامل است؟

- الف. ترمز شدید      ب. گرفتن کلاچ      ج. سرعت زیاد      د. اصطکاک کم لاستیک با سطح جاده
- پاسخ صحیح: د

۶. برای گردش به چپ از خیابان دوطرفه به یکطرفه از چه فاصله‌ای باید راهنما بزنیم؟

- الف. ۵۰ متری      ب. ۷۰ متری      ج. ۱۰۰ متری      د. ۱۵۰ متری
- پاسخ صحیح: ج

۷. در صورت لغزش قسمت عقب خودرو به هنگام حرکت کدام عمل صحیح است؟

الف. چرخاندن فرمان برخلاف جهتی که خودرو می‌لغزد      ب. فرمان را با دو دست محکم نگه دارید  
ج. ترمز شدید  
د. چرخاندن فرمان در جهتی که خودرو می‌لغزد  
پاسخ صحیح: د

۸. چه عاملی می‌تواند میزان خطر ناشی از آسیب دیدگی گردن را در موقع تصادف کم کند؟

الف. بستن کمربند  
ب. وجود پشتی مناسب و تنظیم شده در پشت سر  
ج. ترمزهای ضد قفل  
د. موارد الف و ب صحیح است  
پاسخ صحیح: ب

۹. آیا عقب راندن وسیله نقلیه در آزادراهها و بزرگراهها و ورودی و خروجی ...؟

الف. مجاز است      ب. ممنوع است      ج. با احتیاط میتوان عقب رفت      د. هیچکدام  
پاسخ صحیح: ب

۱۰. منظور از خطوط زیگزاک در حاشیه راه چیست؟

الف. ایستادن روی آن ممنوع است      ب. پارک کردن آزاد است  
ج. پارک کردن برای مدت کوتاهی مجاز است      د. با سرعت ۲۰ کیلومتر برانید  
پاسخ صحیح: الف

۱۱. در مبحث رنگها و علائم عبور و مرور راهنمایی مسیر در بزرگراهها با کدام رنگ نشان داده میشود؟

الف. سبز      ب. قرمز      ج. آبی      د. زرد  
پاسخ صحیح: الف

۱۲. سبقت گرفتن در چه مواردی ممنوع نمی باشد؟

الف. در خطوط طولی ممتد      ب. در خطوط طولی مقطع      ج. در خروجی بزرگراهها      د. هیچکدام  
پاسخ صحیح: ب

۱۳. حداقل فاصله طولی ایمن در راههای پوشیده از برف به نسبت راههای خشک چه اندازه است؟

الف. دوبرابر      ب. سه برابر      ج. چهار برابر      د. شش برابر  
پاسخ صحیح: ب

۱۴. سبقت گرفتن در سر پیچ های تند و سربالایی ها به چه علت ممنوع است؟

الف. کم بودن میدان دید راننده      ب. ترافیک سنگین  
ج. تنظیم نبودن فرمان      د. همه موارد  
پاسخ صحیح: الف

۱۵. سبقت گرفتن از سمت راست وسیله نقلیه ای که در حال گردش به چپ می باشد ...؟

الف. ممنوع است      ب. با احتیاط میتوان عبور کرد  
ج. آزاد است      د. با فرمان پلیس میتوان عبور کرد  
پاسخ صحیح: ج

۱۶. مفهوم رنگ قرمز در علائم عبور و مرور چیست؟

الف. احتیاط      ب. عبور      ج. هشدار      د. منع کننده یا ایست  
پاسخ صحیح: د

۱۷. کدامیک از موارد زیر جز نقص فنی خودرو محسوب نمیشود؟

الف. کم بودن باد تایرها

ب. نداشتن چراغ خطر

ج. شکسته بودن شیشه

د. هیچکدام

پاسخ صحیح: الف

۱۸. حق تقدم در تقاطع ها و میادین چگونه مشخص میشود؟

الف. با استفاده از علائم

ب. با فرمان پلیس

ج. با نظر رانندگان

د. الف و ب

پاسخ صحیح: د

۱۹. در هنگام پارک دوبل معمولاً فاصله خودرو از جدول چند سانتیمتر میباشد؟

الف. ۲۵ سانتیمتر

ب. ۳۰ سانتیمتر

ج. ۴۰ سانتیمتر

د. ۴۵ سانتیمتر

پاسخ صحیح: د

۲۰. در میدان حق تقدم با وسیله نقلیه ای است که ...؟

الف. از سمت راست حرکت می کند

ب. در داخل میدان در حال عبور میباشد

ج. مستقیم حرکت میکند

د. هیچکدام

پاسخ صحیح: ب

۲۱. نام تابلو مقابل چیست؟

الف. خیابان اصلی

ب. راه اصلی

ج. آزادراه

د. جاده اصلی



پاسخ صحیح: ج

۲۲. نام تابلو مقابل چیست؟



- الف. عبور بار با وزن ۳ و نیم تن ممنوع  
ب. عبور بار با ارتفاع بیش از ۳ و نیم متر ممنوع  
ج. رعایت حد فاصله  
د. عبور با عرض بیش از ۳ و نیم متر ممنوع
- پاسخ صحیح: ب

۲۳. نام تابلو مقابل چیست؟



- توقف ممنوع  
ب. ایستادن ممنوع  
ج. منطقه ایستادن ممنوع  
د. عبور ممنوع
- پاسخ صحیح: ب

۲۴. نام تابلو مقابل چیست؟




- الف. شروع جداکننده  
ب. جریان همگرا  
ج. پایان جداکننده  
د. هدایت مسیر با جدا کننده
- پاسخ صحیح: ب

۲۵. نام تابلو مقابل چیست؟







- الف. محل عبور اطفال  
ب. مدرسه  
ج. منطقه عبور عابران  
د. گذرگاه پیاده
- پاسخ صحیح: ب

۲۶. نام تابلو مقابل چیست؟

	الف. فقط عبور دوچرخه	ب. عبور دوچرخه سوار
	ج. عبور دوچرخه ممنوع	د. محل عبور دوچرخه


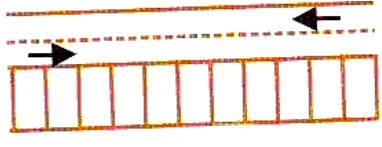
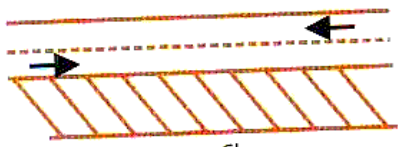
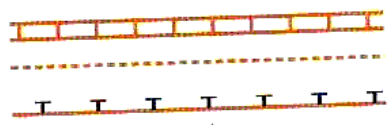
پاسخ صحیح: ج

۲۷. تابلو راهنمایی که فرمان صادر میکنند معمولا به چه شکلی میباشند؟

			
د.	ج.	ب.	الف.

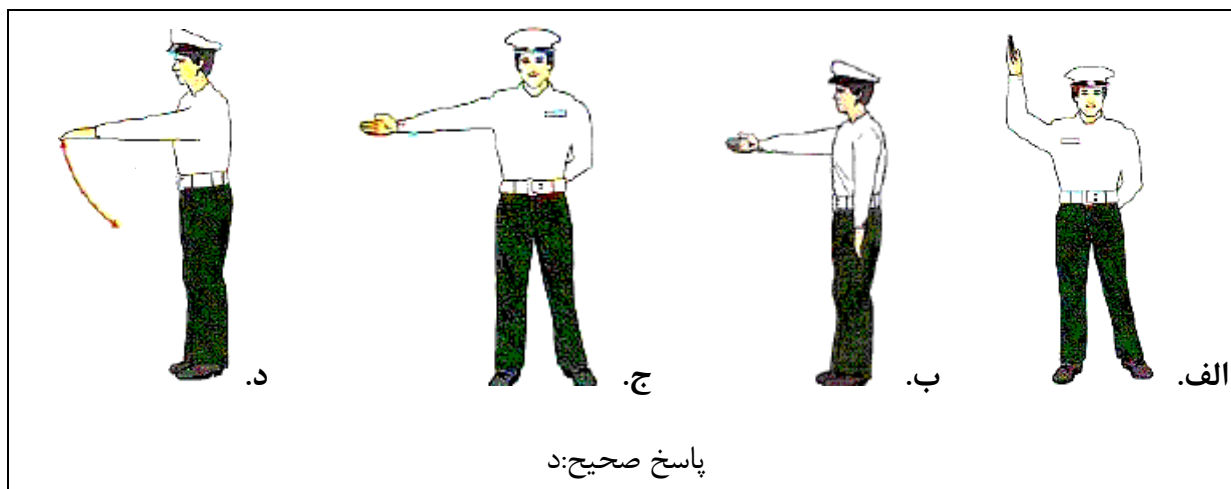
پاسخ صحیح: د

۲۸. کدامیک از خطوط زیر نشانگر پارک افقی است؟

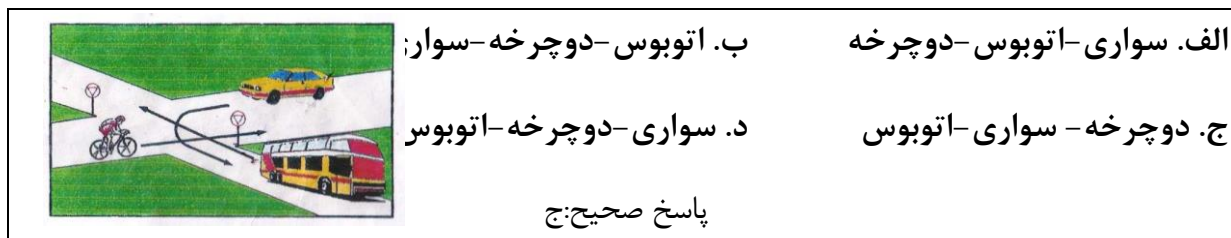
	
ب.	الف.
	
د.	ج.

پاسخ صحیح: ج

۲۹. کدامیک از اشکال زیر بمعنی "سرعت خود را کاهش دهید" است؟

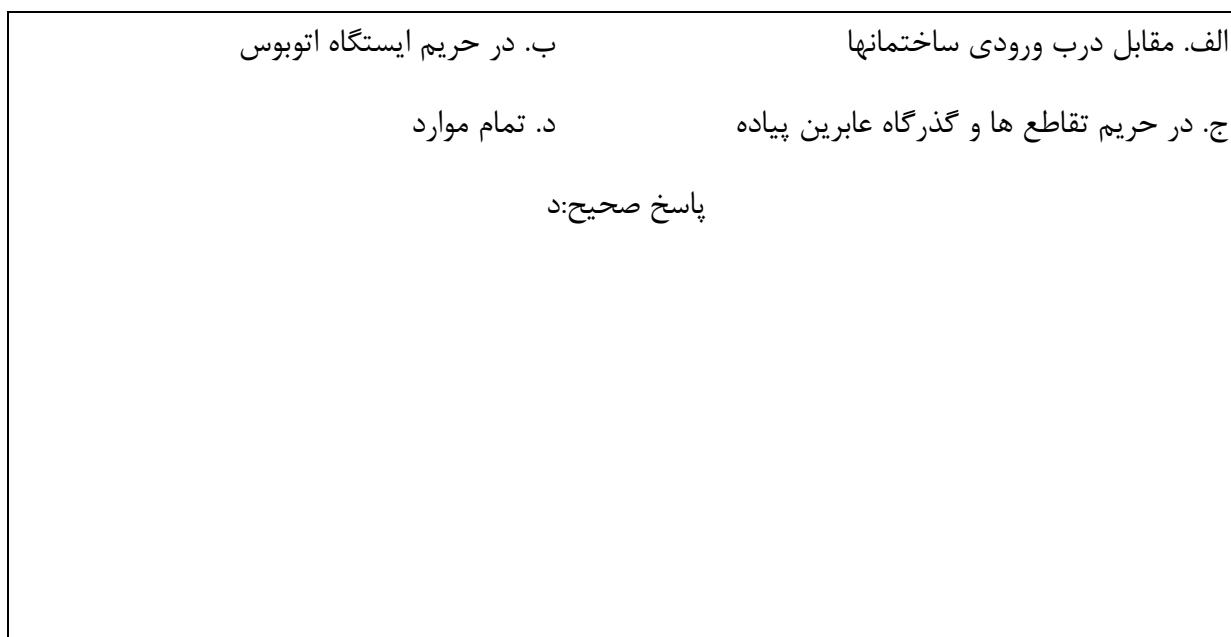


۳۰. در شکل زیر حق تقدم با کدام است؟



### آزمون آیین نامه راهنمایی و رانندگی - تست درایو

۱. در کدامیک از محلهای زیر توقف اتومبیل ایجاد خطر کرده و مانع عبور سایرین خواهد شد؟





۲. تنها موقعی می توانید از تلفن همراه استفاده کنید که ؟

الف. در یک محل و مکان امن توقف کرده باشید  
ب. وسیله نقلیه شما دارای دنده اتوماتیک باشید

ج. نیاز به انجام یک تلفن اضطراری باشید  
د. فرمان رابایک دست بگیرید اتومبیل را هدایت کنید

پاسخ صحیح: الف

۳. کدام مورد زیر هنگام رانندگی در شب احتمال خطر را افزایش می دهد؟

الف. محدودیت میدان دید راننده و خیره شدن به آن  
ب. استفاده از چراغها

ج. استفاده از سایبان  
د. استفاده از بوق

پاسخ صحیح: الف

۴. در شرایط یخبندان مسافت توقف ممکن است چند برابر افزایش یابد؟

الف. ۵ برابر  
ب. ۲ برابر  
ج. ۱۰ برابر  
د. ۳ برابر

پاسخ صحیح: ج

۵. اگر مجبور شوید در مه رانندگی کنید کدام عامل زیر را باید بازدید نمود؟

الف. اطمینان از سالم بودن بخاری  
ب. اطمینان از اینکه در اتومبیل تابلو احتیاط دارید

ج. کنترل و بازدید باطری  
د. بازدید چراغها و اطمینان از تمیز بودن شیشه ها

پاسخ صحیح: د

۶. کم بودن باد لاستیک بر کدام مورد زیر اثر می گذارد؟

الف. تعویض دنده  
ب. ترمز کردن و هدایت کار فرمان

ج. نیروی موتور  
د. گرم شدن موتور

پاسخ صحیح: ب

۷. اگر در هنگام رانندگی متوجه بوی شدید بنزین شدید چه اقدامی انجام می دهید؟

- الف. نگران نباشید زیرا بو ناشی از سوخت بنزین است      ب. با سرعت کم حرکت کنید  
ج. توقف کرده و مسئله را بررسی می کنید      د. هر لحظه باید انتظار داشت که بوی بنزین از بین  
برود

پاسخ صحیح: ج

۸. در شرایط جاده خیس و یخبندان در حال رانندگی هستید کدام مورد باید هنگام نزدیک شدن به پیچ تند رعایت شود؟

- الف. هنگام رسیدن به پیچ با سرعت بیشتری برانید  
ب. قبل از رسیدن به پیچ از سرعت خود بکاهید و تا حد امکان با دنده سنگین حرکت کنید  
ج. به آرامی ترمز دستی را بکشید  
د. در تمامی مدت کلاچ را پایین نگه دارید

پاسخ صحیح: ب

۹. مابین شما و اتومبیل جلویی فاصله دو ثانیه ای مناسب خواهد بود چنانچه؟

- الف. هوا مرطوب و جاده خیس باشد      ب. هوا بارانی باشد  
ج. هوا مه آلود باشد      د. وضعیت راه خشک و هوا خوب باشد

پاسخ صحیح: د

۱۰. با سرعت مجاز در رانندگی هستید اتومبیل پشت سر شما در حال سبقت است آیا می توانید مانع سبقت او شوید؟

- الف. نه مگر اینکه انجام این کار خطر باشد      ب. بله برای اینکه راننده مذکور کار خطرناکی انجام می  
دهد  
ج. نه به هیچ وجه      د. بله برای اینکه راننده مذکور قانون شکنی می کند

پاسخ صحیح: ج

۱۱. آیا رانندگان وسایل نقلیه امدادی در هنگام مأموریت مجاز به عبور از محل ممنوع می باشند؟

الف. در صورتی که موجب تصادف نشوند  
ب. بستگی به شرایط دارد  
ج. در هر شرایطی مجاز هستند  
د. به علت خطرات موجود نمی توانند عبور ممنوع بروند  
پاسخ صحیح: د

۱۲. به دنبال یک کامیون بر روی جاده خیس حرکت می کنید پاشیدن آب باران دید را مختل میکند چه کار باید انجام دهید؟

الف. از کامیون فاصله می گیرید تا جایی که بهتر بتوانید ببینید  
ب. نزدیک به کامیون حرکت کنید  
ج. در حاشیه حرکت کنید تا از پاشیدن آب در امان باشید  
د. سرعت گرفته و سبقت می گیرید  
پاسخ صحیح: الف

۱۳. به دنبال یک کامیون در حال حرکت هستید کامیون در حال گردش به راست و ورود به جاده باریک است چه اقدامی می کنید؟

الف. از او سبقت می گیرید  
ب. آماده می شوید پشت سر او بایستید  
ج. به طرف راست رفته و با گردش کامیون به راه خود ادامه می دهید  
د. قبل از اینکه کامیون وارد جاده باریک شود با سرعت از او سبقت می گیرید  
پاسخ صحیح: ب

۱۴. پوشیدن کفش های مناسب به هنگام رانندگی بسیار اهمیت دارد علت این امر چیست؟

الف. به منظور ممانعت از ساییدگی لاستیک پدالها  
ب. به منظور تعویض سریع دنده  
ج. به منظور حفظ کنترل صحیح بر روی پدالها  
د. به منظور راحتی پیاده روی در مواقع نقص فنی  
پاسخ صحیح: ج

۱۵. راننده اتومبیلی که به چهارراه می رسد چکار باید انجام دهد؟

الف. با همان سرعت به مسیر ادامه دهد

ب. باید آهسته رانده و جهت توقف آماده شود

ج. بوق بزند

د. به آرامی حرکت کرده و عبور کند

پاسخ صحیح: ب

۱۶. حداکثر سرعت در جاده های اصلی (برون شهری)؟

الف. در روز ۸۰ کیلومتر در شب ۹۰ کیلومتر

ب. در روز ۱۱۰ کیلومتر در شب ۹۰ کیلومتر

ج. در روز ۹۵ کیلومتر در شب ۸۵ کیلومتر

د. در روز ۹۰ کیلومتر در شب ۸۵ کیلومتر

پاسخ صحیح: ج

۱۷. شما قصد دارید رانندگی کنید ولی احساس بیماری می کنید چکار باید انجام دهید؟

الف. قبل از رانندگی داروی مناسبی بخورید

ب. در صورت امکان طول سفر را کوتاه کنید

ج. شب زود بخوابید

د. رانندگی نکنید

پاسخ صحیح: د

۱۸. در جاده ای در حال حرکت هستید احساس خستگی می کنید چکار می کنید؟

الف. به رانندگی ادامه می دهید ولی آهسته برانید

ب. سفر را هر چه سریعتر به انتها برسانید

ج. در شانه خاکی جاده توقف نمایید

د. در اولین خروجی از جاده خارج شده استراحت کنید یا یک لیوان چایی بنوشید

پاسخ صحیح: د

۱۹. راننده اتومبیلی که به گذرگاه راه آهن میرسد چکار باید انجام دهد؟

الف. قبل از مانع توقف کند

ب. با سرعت عبور کند

ج. با دقت و مراقبت عبور کند

د. چراغهای خطر را روشن کند

پاسخ صحیح: د

۲۰. کدام مورد است که به هنگام سبقت گرفتن از آنها باید فضای بیشتری در نظر گرفت؟

الف. وانت و تراکتور

ب. موتورسیکلت و دوچرخه

ج. ماشین های مجاور و وسایل نقلیه سنگین

د. ماشین های حامل مسافر و ماشین های حامل بار

پاسخ صحیح: ب

۲۱. نام تابلو مقابل چیست؟

الف. تقاطع راه آهن

ب. تقاطع راه آهن بدون راه بند

ج. تقاطع مسیر قطار شهری

د. تقاطع راه آهن با قطار شهری



پاسخ صحیح: ج

۲۲. نام تابلو مقابل چیست؟

الف. رعایت حق تقدم

ب. به تابلو رعایت حق تقدم نزدیک می شویم

ج. عبور آزاد

د. عبور با رعایت حق تقدم



پاسخ صحیح: ب

۲۳. نام تابلو مقابل چیست؟

الف. عبور تراکتور ممنوع

ب. عبور وسایل نقلیه موتوری ممنوع


ج. عبور خودرو کشاورزی ممنوع

د. منطقه کشاورزی




پاسخ صحیح: ج


۲۴. نام تابلو مقابل چیست؟

	الف. شروع جدا کننده	ب. جریان همگرا
	ج. پایان جدا کننده	د. هدایت مسیر با جدا کننده
	پاسخ صحیح: د	





۲۵. نام تابلو مقابل چیست؟

	الف. محل عبور اطفال	ب. مدرسه
	ج. منطقه عبور عابران	د. گذرگاه پیاده
	پاسخ صحیح: ب	


۲۶. نام تابلو مقابل چیست؟

	الف. فقط عبور دوچرخه	ب. عبور دوچرخه سوار
	ج. عبور دوچرخه ممنوع	د. محل عبور دوچرخه
	پاسخ صحیح: ب	

۲۷. کدام تابلو بمعنی ممنوع بودن عبور وسایل نقلیه موتوری می باشد؟

			
الف.	ب.	ج.	د.
پاسخ صحیح: ب			

۲۸. خط زیر نشانگر چیست؟



الف. پارک کردن بصورت افقی

ب. عبور کردن و ایستادن روی آن آزاد است

ج. عبور کردن و ایستادن روی آن ممنوع

د. خط مخصوص عبور پیاده

پاسخ صحیح: ج

۲۹. مفهوم شکل زیر چیست؟



ب. فقط به راست گردش کنید

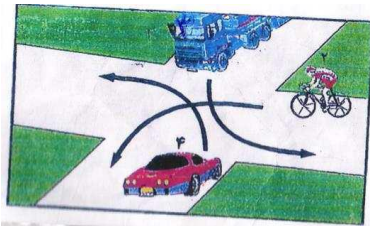
الف. پشت خط توقف بایستید

د. مقابل پلیس بایستید

ج. فقط به چپ گردش کنید

پاسخ صحیح: الف

۳۰. در شکل زیر حق تقدم با کدام است؟



ب. کامیون - دوچرخه - سواری

الف. سواری - کامیون - دوچرخه

د. سواری - دوچرخه - کامیون

ج. دوچرخه - سواری کامیون

پاسخ صحیح: ب

آزمون آیین نامه راهنمایی و رانندگی - تست درایو

۱. بر روی جاده خیس ترمزی می کنید وسیله شما شروع به لغزش می کند اولین کاری که انجام می دهید چیست؟

- الف. ترمز را کاملاً آزاد می کنید  
ب. به سرعت ترمز دستی را بکشید  
ج. پای خود را با شدت بیشتری بر ترمز فشار دهید  
د. پای خود را بر روی کلاچ بگذارید
- پاسخ صحیح: الف

۲. ساییدگی نا متوازن یا بیش از حد لاستیک ناشی از کدام موارد زیر است؟

- الف. میزان نبودن باد چرخها  
ب. سرعت بیش از حد  
ج. تنظیم نبودن فرمان عدم تنظیم چرخها و ترمزها  
د. تاب داشتن گاردان
- پاسخ صحیح: ج

۳. کنترل باد لاستیک چرخها چه زمانی باید انجام شود؟

- الف. بعد از طی مسافت طولانی  
ب. زمانی که لاستیک ها سرد هستند  
ج. بعد از یک رانندگی با سرعت بالا  
د. زمانیکه لاستیک ها داغ هستند
- پاسخ صحیح: ب

۴. در چه مواردی می توانید به رانندگان و عابرین با چرخ علامت دهید؟

- الف. جهت اعلام اینکه به آنها راه داده اید  
ب. جهت اعلام اینکه دنده عقب می روید  
ج. جهت اعلام اینکه حق تقدم با شماست  
د. جهت اعلام حضور با آنها
- پاسخ صحیح: د



۵. کدامیک از موارد زیر عامل تصادف با اتومبیل جلویی است؟

- الف. عدم توجه کافی به راه و نزدیک شدن بیش از حد به اتومبیل جلویی  
ب. تغییر نور چراغها  
ج. عبور عابر پیاده در مناطق شهری و شلوغ  
د. تراکم وسایل نقلیه

پاسخ صحیح: الف

۶. اتومبیلی ناگهانی از یک فرعی بیرون می آید چکار میکنید؟

- الف. چراغ داده و پشت سر او قرار می گیرید  
ب. با سرعت از کنارش گذشته و بوق می زنید  
ج. از سرعت خود کاسته و آماده توقف می شوید  
د. با شتاب از کنار او عبور می کنید

پاسخ صحیح: ج

۷. جهت رانندگی خوب از چه فاصله ای پلاک اتومبیلها را بخوانید؟

- الف. ۱۰ متری      ب. ۱۵ متری      ج. ۲۰ متری      د. ۲۵ متری

پاسخ صحیح: ج

۸. وظیفه رانندگان در برخورد با وسیله نقلیه امدادی که دستگاههای خبری و صوتی را به کار انداخته پیست؟

- الف. در کنار وسیله نقلیه حرکت کنند  
ب. باید به منتهی الیه سمت راست هدایت و عند الزوم تا گذاشتن وسیله نقلیه امدادی توقف کنند  
ج. به مسیر خود ادامه دهند  
د. به سمت پیچ متمایل شوند

پاسخ صحیح: ب

۹. چه عاملی میزان خطر ناشی از آسیب دیدگی گردن را در مواقع تصادف کم می کند؟

الف. صندلی مجهز به بالشتک هوا	ب. ترمزهای ضد قفل
ج. فرمان مقابل انعطاف	د. وجود پشتی مناسب پشت سر و تنظیم شده
پاسخ صحیح: د	

۱۰. شما در اتومبیل خود دو کودک دارید چه کسی مسئولیت دارد که کودکان کمربند ایمنی را بسته باشند؟

الف. کودکان	ب. والدین بچه ها	ج. راننده	د. مسافری که صندلی جلو نشسته
پاسخ صحیح: ج			

۱۱. در چهار راهی با دید کم در حال حرکت هستید چکار می کنید؟

الف. در حالیکه طرفین را نگاه می کنید به آهستگی حرکت کنید	
ب. در حالیکه طرف راست را نگاه می کنید کاملاً آهسته حرکت کنید	
ج. آماده باشید که به سرعت حرکت کنید	
د. بدون توجه به طرفین به حرکت ادامه دهید	
پاسخ صحیح: الف	

۱۲. چه عاملی موجب بهم خوردن ترمز در رانندگی می شود؟

الف. استفاده از شیشه شور اتومبیل	ب. نگاه کردن به آینه انومبیل
ج. نگاه کردن به طرف اتومبیل	د. نگاه کردن به نقشه و گوش کردن به موزیک و استفاده از موبایل
پاسخ صحیح: د	

۱۳. هنگامیکه از نزدیکی مدرسه ای عبور می کنید احتمال عبور کودکان وجود دارد چه اقدامی انجام می دهید؟

- الف. با بوق زدن مداوم آنان را آگاه می سازید
  - ب. همیشه سرعت مناسبی داشته باشید و پیش بینی خطرات جانبی را بنمایید
  - ج. با روشن کردن چراغ به آنها هشدار می دهید
  - د. قبل ورود کودکان به سواره رو با سرعت عبور می کنید
- پاسخ صحیح: ب

۱۴. مصرف مشروبات الکلی چه تاثیری در رانندگی دارد؟

- الف. قدرت واکنش را کم کرده هماهنگی را کاهش داده و تشخیص سرعت را مختل می کند
  - ب. قدرت واکنش را زیادتیر کرده هماهنگی را کاهش داده و تشخیص سرعت را مختل می کند
  - ج. اعتماد به نفس را کم کرده قدرت واکنش را زیادتیر می کند
  - د. اعتماد به نفس را کم کرده تشخیص قدرت را زیادتیر می کند
- پاسخ صحیح: الف

۱۵. در مواقعی که اتومبیل خود را پارک می کنید نباستی....؟

- الف. در جاده اصلی پارک کنید
  - ب. در دنده بگذارید
  - ج. ترمز دستی را بکشید
  - د. مانع سایر استفاده کنندگان از راه شوید
- پاسخ صحیح: د

۱۶. اگر عابری را ببینید که عصای سفید دارد به چه معناست؟

- الف. معلول است
  - ب. ناشنوا است
  - ج. نابینا است
  - د. مسن است
- پاسخ صحیح: ج

۱۷. در آزادراهها میخهای زرد رنگ در چه محلی دیده می شود؟

الف. بین شانه خاکی و باند اصلی	ب. بین هر دو باند مجاور
ج. در باند کاهش و افزایش سرعت	د. بین محل خالی وسط آزادراه و باند اصلی
پاسخ صحیح: د	

۱۸. در چه شرایطی می توانید از خط عبور سمت چپ در آزادراه استفاده نمایید؟

الف. برای سبقت گرفتن از سایر وسایل نقلیه	ب. برای کنار رفتن از سر راه کامیونهای بزرگ
ج. برای رانندگی در سرعت بیش از ۹۰ کیلومتر	د. هنگامیکه با سرعت کم در حال رانندگی هستید
پاسخ صحیح: الف	

۱۹. در کدامیک از موارد زیر نباید دنده عقب بروید؟


الف. برای مسافتهای طولانی تر از اندازه اتومبیل	ب. دنده عقب به داخل یک خیابان فرعی
ج. برای مسافتهای اصلی	د. دنده عقب در مناطق مسکونی و شهری
پاسخ صحیح: ج	

۲۰. فاصله اتومبیل ها در جاده یخبندان با سرعت ۳۰ کیلومتر در ساعت چند اتومبیل می باشد؟


الف. ۶	ب. ۱۲	ج. ۱۸	د. ۲۴
پاسخ صحیح: ب			

۲۱. نام تابلو مقابل چیست؟


الف. ایست ممنوع	ب. توقف ممنوع
ج. توقف در روزهای فرد هفته ممنوع	د. پایان منطقه توقف ممنوع
پاسخ صحیح: ب	




۲۲. نام تابلو مقابل چیست؟

	الف. رعایت حق تقدم	ب. به تابلو رعایت حق تقدم نزدیک می شوید
	ج. خطر	د. عبور با رعایت حق تقدم
	پاسخ صحیح: الف	


۲۳. نام تابلو مقابل چیست؟

	الف. عبور گاری ممنوع	ب. عبور وسایل نقلیه موتوری ممنوع
	ج. عبور کلیه وسایل نقلیه ممنوع	د. تمام موارد
	پاسخ صحیح: ج	


۲۴. نام تابلو مقابل چیست؟

	الف. جاده دو طرفه	ب. فقط عبور مستقیم مجاز است
	ج. عبور از هر دو سمت مجاز است	د. حق تقدم عبور با وسیله نقلیه مقابل است
	پاسخ صحیح: د	


۲۵. نام تابلو مقابل چیست؟

	الف. تقاطع	ب. تقاطع فرعی به اصلی
	ج. تقاطع Y شکل	د. ورود به راه اصلی
	پاسخ صحیح: الف	


۲۶. نام تابلو مقابل چیست؟

	الف. راه لغزنده	ب. خطر سقوط در آب
	ج. شانه خطرناک	د. سر بالایی خطرناک
	پاسخ صحیح: ج	


۲۷. کدام تابلو به معنی جریان همگرا می باشد؟




د.



ج.




ب.



الف.

پاسخ صحیح: ج

۲۸. این فلش نشانگر چیست؟



الف. جهت نما برای راهنمایی رانندگان


ب. حق تقدم عبور

ج. خط توقف

د. توقف دوبله منقطع

پاسخ صحیح: الف

۲۹. مفهوم شکل زیر چیست؟



الف. پشت خط توقف بایستید


ب. فقط به راست گردش کنید

ج. فقط به چپ گردش کنید

د. قصد متوقف کردن دارد

پاسخ صحیح: د

۳۰. در شکل زیر حق تقدم با کدام است؟



الف. زرد - قرمز - آبی

ب. زرد - آبی - قرمز

ج. آبی - زرد - قرمز

د. آبی - قرمز - زرد

پاسخ صحیح: ج

آزمون آیین نامه راهنمایی و رانندگی - تست درایو

۱. گواهینامه را بنا به درخواست چه کسی باید ارائه نمود؟

- الف. پلیس ترافیک  
ب. پس از وقوع حادثه به فرد دیگر تصادف  
ج. بازرس اتومبیل  
د. مامور ترافیک  
پاسخ صحیح: الف

۲. در جاده اتومبیل شما دچار نقص گردید برای هشدار دیگران تابلوی احتیاط را در چه فاصله ای از اتومبیل خود قرار می دهید؟

- الف. ۵ متری  
ب. ۲۵ متری  
ج. ۷۰ متری  
د. ۱۰۰ متری  
پاسخ صحیح: ج

۳. نحوه بارگیری تریلر ها به نحوی باید باشد که: ؟

- الف. بارها به صورت متوازن توزیع و خوب بسته شود  
ب. بارها عمدتا در نزدیکی چرخها بارگیری شود  
ج. بار عمدتا در بخش عقب قرار می گیرد  
د. بارها در بخش جلوی تریلر قرار گیرد  
پاسخ صحیح: الف

۴. آیا اجازه دادن به کودکان برای نشستن در پشت صندلی های عقب اتومبیلهای استیشن صحیح است؟

- الف. بله اگر بتوانید آنها را ببینید  
ب. بله اگر زیر ۱۱ سال باشد  
ج. خیر در هیچ شرایطی  
د. خیر مگر صندلی های دیگر پر باشد  
پاسخ صحیح: ج

۵. هوا طوفانی است و شما پشت سر موتورسوار قرار دارید و قصد سبقت دارید چکار می کنید؟

الف. بلافاصله سبقت می گیرید

ب. کاملاً فاصله می گیرید

ج. به موازات موتورسوار حرکت می کنید

د. به موتورسوار نزدیک می شوید

پاسخ صحیح: ب

۶. در حال رانندگی لاستیک اتومبیل می ترکد چکار می کنید؟

الف. جهت توقف اتومبیل از دنده معکوس استفاده می کنید

ب. با دست علامت توقف دهید و از دنده معکوس استفاده کنید

ج. به آرامی کنار کشیده و در حاشیه توقف نموده فرمان را برای کنترل وسیله نقلیه به شدت و محکم می گیرید

د. با شدت هر چه تمام تر ترمز کنید

پاسخ صحیح: ج

۷. در راه دچار حادثه شده اید تابلوی احتیاط را در چه فاصله ای قرار می دهید؟

الف. ۱۰ متری

ب. ۲۰ متری

ج. ۵۰ متری

د. ۷۰ متری

پاسخ صحیح: د

۸. چه موقع از چراغ هشدار دهنده خطر استفاده می کنید؟

الف. زمانیکه در تاریکی بدون چراغ بزرگ حرکت می کنید

ب. زمانیکه برای خرید بر روی خطوط زرد دوبل توقف کرده اید

ج. زمانیکه به صورت موقت و یا اضطراری توقف کرده و ترافیک را متوقف نمودید

د. زمانیکه به آرامی رانندگی می کنید و به دنبال آدرسی می گردید

پاسخ صحیح: ج



۹. موتور سواران نسبت به رانندگان دیگر آسیب پذیرترند برای اینکه.....؟

الف. با سرعت بیشتری پیچها را طی می کنند  
ب. تغییرات سطح راه بر روی آنها تاثیرات بیشتری دارد  
ج. نسبت به اتومبیل شتاب بیشتری می گیرد  
د. سرعت آنها از اتومبیلها سریعتر است

پاسخ صحیح: ب

۱۰. مفهوم رنگ سبز در علائم رانندگی چیست؟

الف. منع کننده یا ایست  
ب. هشدارهای عمومی  
ج. راهنما برای مناطق تفریحی  
د. حرکات مجاز

پاسخ صحیح: د

۱۱. مفهوم شکل پنج ضلعی در علائم چیست؟

الف. علائم هشدار برای مدرسه و دبیرستان  
ب. عائم برای تابلوهای دستوری  
ج. علائم دستوری بازدارنده  
د. برای تابلوهای ایست

پاسخ صحیح: الف

۱۲. در کدام موقعیت زیر باید اتومبیل را متوقف کنید؟

الف. در حریم تقاطع  
ب. در گذرگاه  
ج. در تقاطعهای که دارای خط دابل منقطع باشد  
د. زمانی که تصادف منجر به جرح و یا فوت شده باشد یا پشت چراغ قرمز یا زمانی که پلیس فرمان داده باشد

پاسخ صحیح: د

۱۳. برای کدام مورد زیر چراغهای هشداردهنده باید روشن باشد؟

الف. زمانیکه لازم است در پیاده رو پارک کنید

ب. زمانیکه به صورت دابل پارک کنید

ج. زمانیکه نیاز به جلب توجه سایر رانندگان دارید

د. زمانیکه در بزرگراه سرعت خود را برای خطری که در جلوی شما قرار دارد کم می کنید

پاسخ صحیح: د

۱۴. بعد از ورود به میدان قصد ادامه مسیر مستقیم دارید چکار می کنید؟

الف. به هیچ وجه علامت نمی دهید

ب. زمانیکه به میدان نزدیک می شوید راهنمای راست بزنید

ج. با توجه به چراغ راهنما و حق تقدم حرکت کرده و از میدان خارج شوید

د. زمانیکه به میدان نزدیک می شوید راهنمای چپ بزنید

پاسخ صحیح: ج

۱۵. در کدام محل است که نباید پارک کنید؟

ب. در خیابانهای فرعی

الف. در خیابانهای اصلی

د. در ۱۵ متری تقاطع ها و ایستگاه اتوبوس

ج. در خیابانهای یکطرفه

پاسخ صحیح: د

۱۶. قانون اولیه و پایه در مورد رانندگی در آزادراهها چیست؟

- الف. همیشه از سمت راست برانید مگر آنکه قصد سبقت داشته باشید
  - ب. از باندی استفاده کنید که کمترین ترافیک را دارد
  - ج. از سمتی سبقت بگیرید که خلوت باشد
  - د. با سرعت بیش از ۹۰ کیلومتری در ساعت رانندگی نکنید
- پاسخ صحیح: الف

۱۷. یک چراغ قرمز راهنمایی به معنی ...؟

- الف. باید پشت خط ایست توقف کرده و منتظر باشید
- ب. شما باید بایستید مگر بخواهید گردش به چپ کنید
- ج. چنانچه می توانید بی خطر ترمز کنید بایستید
- د. با احتیاط عبور کنید

پاسخ صحیح: الف

۱۸. دلیل استفاده از دنده سنگین در شرایط بد جوی چیست؟

- الف. در موقع ترمز از سرعت کمتری برخوردار باشید
  - ب. جهت ممانعت از لغزش چرخها
  - ج. بدلیل اینکه دور زیاد موتور باعث لغزش چرخها نشود
  - د. در صورت لغزش استفاده از دنده پایین تر امکان پذیر باشد
- پاسخ صحیح: ب


۱۹. رانندگان وسایل نقلیه امدادی در چه مواردی مجاز به استفاده از سوت خطر آژیر و چراغ گردان می باشند؟

الف. در همه مواقع	ب. به دلخواه راننده
ج. برای انجام ماموریت‌های مهم و فوری	د. در هنگام مواجهه با خطر
پاسخ صحیح: ج	


۲۰. فاصله اتومبیلها در جاده خشک با سرعت ۷۵ کیلومتر در ساعت چند اتومبیل می باشد؟

الف. ۲	ب. ۳	ج. ۴	د. ۵
پاسخ صحیح: د			


۲۱. نام تابلو مقابل چیست؟

	الف. جاده دوطرفه	ب. عبور دو طرف ممنوع
	ج. عبور از مقابل ممنوع	د. حق تقدم عبور با شما
پاسخ صحیح: الف		


۲۲. نام تابلو مقابل چیست؟

	الف. سبقت ممنوع	ب. تراکم ترافیک
	ج. خیابان ۳ بانده	د. موارد الف و ب
پاسخ صحیح: ب		


۲۳. نام تابلو مقابل چیست؟

	الف. عبور اطفال	ب. عبور عابر پیاده
	ج. فقط عبور پیاده	د. گذرگاه عابر پیاده
پاسخ صحیح: د		


۲۴. نام تابلو مقابل چیست؟

	الف. راه اصلی	ب. آزادراه
	ج. خیابان اصلی	د. عبور وسایل نقلیه با محموله خطرناک
	پاسخ صحیح: ج	





۲۵. نام تابلو مقابل چیست؟

	الف. حداکثر سرعت ۳۰ کیلومتر	ب. حداقل سرعت ۳۰ کیلومتر
	ج. به تابلو سرعت ۳۰ کیلومتر نزدیک میشوید	د. سرعت توصیه شده
	پاسخ صحیح: ب	

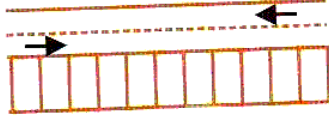
۲۶. نام تابلو مقابل چیست؟

	الف. راه یکطرفه	ب. خیابان یکطرفه
	ج. تابلوی جهت نما	د. فقط عبور مستقیم مجاز
	پاسخ صحیح: د	

۲۷. کدام تابلو بمعنی دور زدن ممنوع میباشد؟


			
د.	ج.	ب.	الف.
پاسخ صحیح: ج			

۲۸. مفهوم شکل زیر چیست؟

	الف. پارک افقی	ب. پارک مورب
	ج. پارک عمودی	پارک توقف دوبله

پاسخ صحیح: ج

۲۹. مفهوم شکل زیر چیست؟

	الف. اتومبیل‌هایی که در سمت جلو و عقب مامور قرار دارند بمنزله ایست است
	ب. اتومبیل‌هایی که در سمت جلو و عقب مامور قرار دارند فقط به راست گردش کنید
	ج. اتومبیل‌هایی که در سمت جلو و عقب مامور قرار دارند فقط به چپ گردش کنید
	د. مقابل پلیس بایستید

پاسخ صحیح: الف

۳۰. در شکل زیر حق تقدم با کدام است؟

	الف. زرد-آبی-بنفش	ب. زرد آبی با هم-بنفش
	ج. آبی- زرد-بنفش	د. زرد-بنفش-آبی

پاسخ صحیح: د

آزمون آیین نامه راهنمایی و رانندگی - تست درایو

۱. هر باری که روی باربند سقف اتومبیل حمل می شود باید ...؟

- الف. زمانیکه کاملاً نیاز باشد حمل شود  
ب. محکم بسته شود  
ج. تا حد امکان سبک باشد  
ج. با یک پوشش پلاستیکی پوشیده شود
- پاسخ صحیح: ب

۲. برای ترمز کردن کدام قسمت پا را بر روی پدال قرار می دهیم؟

- الف. پاشنه پا  
ب. کف پا  
ج. سینه پا  
د. همه موارد
- پاسخ صحیح: ج

۳. کلاچ گرفتن باعث کدامیک از موارد زیر می شود؟

- الف. کنترل راننده به حرکت و جهت اتومبیل بیشتر می شود  
ب. پیچیدن به طرفین و به اصطلاح چرخاندن فرمان آسانتر می شود  
ج. کنترل راننده به حرکت و جهت اتومبیل کم می شود  
د. پیچیدن به طرفین و چرخاندن فرمان سختتر می شود
- پاسخ صحیح: ج

۴. کدام معابر جزو جاده های برون شهری به حساب می آید؟

- الف. آزادراه  
ب. بزرگراه  
ج. جاده ها  
د. همه موارد
- پاسخ صحیح: د

۵. در خیابان شلوغ جهت دور زدن بی خطرترین شیوه کدام است؟

الف. از فردی بخواهید ترافیک را نگه دارد تا شما دور بزنید

ب. خیابان فرعی خلوتی را جهت دور زدن پیدا کنید

ج. به داخل خیابان فرعی رفته و به صورت دنده عقب وتارد خیابان شوید

د. در همان خیابان شلوغ اقدام به دور زدن نمایید

پاسخ صحیح: ب

۶. در کدام محل سبقت ممنوع است؟

الف. تقاطعها، پلها، تونلها، سربالایی، پیچ تند و محلهایی که با نصب و خط کشی ممنوع است

ب. خیابانهای دوطرفه تقاطعها و پلها

ج. در بزرگراهها و خیابانهای دوطرفه

د. در خیابانهای یک طرفه

پاسخ صحیح: الف

۷. قانون اولیه و پایه در مورد رانندگی در آزادراهها چیست؟

الف. از باندی استفاده کند که کمترین ترافیک را دارد

ب. از سمتی سبقت بگیرید که خلوت باشد

ج. سعی کنید با سرعت بیش از ۹۰ کیلومتر در ساعت رانندگی کنید

د. همیشه از سمت راست برانید مگر آنکه قصد سبقت داشته باشید

پاسخ صحیح: د



۸. در یک تقاطع هیچگونه علائم یا تابلو وجود ندارد. دو اتومبیل نزدیک می شود. کدامیک حق عبور دارد؟

الف. اتومبیلی که سریعتر حرکت می کند  
ب. اتومبیلی که در خیابان پهن تر قرار دارد  
ج. هیچکدام هر دو باید توقف کنند بعد با رعایت حق تقدم عبور کنند  
د. اتومبیلی که از سمت راست وارد می شود

پاسخ صحیح: ج

۹. چه موقع می توانید به صورت دنده عقب از یک خیابان فرعی به اصلی وارد شوید؟

الف. تنها اگر هر دو خیابان خلوت باشد  
ب. در همه مواقع  
ج. تنها اگر خیابان اصلی دارای ترافیک نباشد  
د. هیچ موقع

پاسخ صحیح: د

۱۰. مهمترین عامل تصادف رانندگی چیست؟

الف. شرایط آب و هوایی  
ب. اشتباهات رانندگی  
ج. شرایط جاده  
د. مسائل مکانیکی

پاسخ صحیح: ب

۱۱. پایین بودن کدام مورد میتواند منجر به حادثه شود؟

الف. سطح روغن ترمز  
ب. سطح ضدیخ  
ج. سطح آب باطری  
د. سطح آب خنک کننده رادیاتور

پاسخ صحیح: الف

۱۲. دلیل استفاده از دنده سنگین در شرایط رانندگی در باران و برف چیست؟

الف. در موقع ترمز از سرعت کمتری برخوردار باشید

ب. جهت ممانعت از لغزش چرخها

ج. در صورت لغزش استفاده از دنده پایینتر امکانپذیر باش

د. بدلیل اینکه دورزیاد موتور باعث لغزش چرخها نشود

پاسخ صحیح: ب

۱۳. در پشت سر یک دوچرخه سوار در حال رانندگی هستید قصد دارید به سمت راست گردش کنید چکار میکنید؟

الف. از دوچرخه سبقت گرفته و قبل از تقاطع از او جلو میزنیم

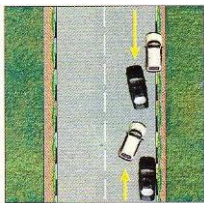
ب. همجوار و موازی با دوچرخه سوار برانید

ج. در پشت سر وی به حرکت ادامه میدهید تا اینکه دوچرخه سوار از محل تقاطع رد شود

د. در محل تقاطع از وی جلو بزنید

پاسخ صحیح: ج

۱۴. در شکل زیر حق تقدم با کدام است؟



ب. سفید

الف. مشکی

د. بخاطر خط ممتد هیچکدام

ج. هر دو با هم

پاسخ صحیح: الف

۱۵. موثرترین عضو بدن انسان در حین رانندگی کدام است؟

د. قلب

ج. دستها

ب. چشمها

الف. پاها

پاسخ صحیح: ب

۱۶. وضعیت شما در رانندگی به چه عواملی بستگی دارد؟

الف. پای بندی به مقررات	ب. دانش رانندگی و مهارت
ج. تفکر، موقیت، دانش قبلی، ادب و نزاکت	د. رفتارهای مثبت و ترافیکی
پاسخ صحیح: ج	

۱۷. حداقل فاصله طولی ایمن در جاده های شن و ماسه با سرعت ۶۰ کیلومتر ..... طول ماشین است؟

الف. ۲	ب. ۴	ج. ۶	د. ۸
پاسخ صحیح: د			

۱۸. نباید مدت زیادی پای خود را روی کلاچ نگه دارید برای اینکه موجب می شود؟

الف. کنترل شما بر روی وسیله نقلیه کاهش یابد	ب. موجب کم شدن عمر گیربکس می شود
ج. مصرف بنزین بیشتر خواهد شد	د. اصطکاک لاستیکها با جاده کم می شود
پاسخ صحیح: الف	


۱۹. مفهوم رنگ سیاه و سفید در علائم عبور و مرور به چه معنی است؟

الف. علائم دستوری و راهنمای مسیر در سایر راهها	ب. مناطق اداری و آموزشی
ج. راهنمای خدمات	د. راهنمای مسیر در بزرگراهها
پاسخ صحیح: الف	


۲۰. مفهوم شکل دایره در علائم عبور و مرور به چه معنا می باشد؟

الف. شروع و پایان حق تقدم مسیر	ب. معمولا برای علائم راهنما
ج. علامت دستوری و بازدارنده	د. صرفا تابلوهای ایست
پاسخ صحیح: ج	


۲۱. نام تابلو مقابل چیست؟

	الف. ایست	ب. توقف ممنوع
	ج. عبور ممنوع	د. ورود ممنوع
	پاسخ صحیح: الف	

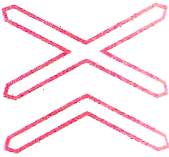
۲۲. نام تابلو مقابل چیست؟

	الف. روگذر	ب. زیرگذر
	ج. گذرگاه پیاده	د. شروع محل پیاده روی
	پاسخ صحیح: ب	


۲۳. نام تابلو مقابل چیست؟

	الف. توقف ممنوع	ب. ایستادن ممنوع
	ج. توقف در روزهای فرد ممنوع	د. توقف در روزهای زوج ممنوع
	پاسخ صحیح: د	


۲۴. نام تابلو مقابل چیست؟

	الف. تقاطع با راه آهن	ب. تقاطع با راه آهن دوخطه
	ج. تقاطع راه آهن با راهبند	د. تقاطع جاده با راه آهن
	پاسخ صحیح: ب	





۲۵. نام تابلو مقابل چیست؟

	الف. عبور کامیون ممنوع	ب. عبور کامیون آزاد
	ج. مسیر توصیه شده برای وسایل سنگین	د. عبور تریلی ممنوع
	پاسخ صحیح: ج	


۲۶. نام تابلو مقابل چیست؟

	الف. فقط عبور پیاده	ب. گذرگاه پیاده
	ج. عبور اطفال	ج. عبور عابر پیاده
	پاسخ صحیح: الف	


۲۷. کدام تابلو به معنای ریزش سنگ است؟

			
د.	ج.	ب.	الف.
پاسخ صحیح: د			


۲۸. مفهوم شکل زیر چیست؟

	الف. گردش به چپ	ب. گردش به راست
	ج. توقف	د. آهسته
	پاسخ صحیح: ب	

۲۹. مفهوم شکل زیر چیست؟

	الف. قبل از توقف به کودکان اشاره میکنید که عبور کنند
	ب. تنها اگر کودکان در حال عبور از خط کشی عابر پیاده هستند توقف میکنید
	ج. توقف کرده و به کودکان اجازه عبور میدهید
	د. تنها زمانی که عملاً کودکان در حال عبور از جاده هستند توقف میکنید
پاسخ صحیح: ج	

۳۰. در شکل زیر حق تقدم با کدام است؟



- الف. اتوبوس دوچرخه سواری  
ب. سواری اتوبوس دوچرخه  
ج. سواری دوچرخه اتوبوس  
د. اتوبوس سواری دوچرخه
- پاسخ صحیح: ج

۱. در ابتدای بارندگی بدلیل احتمال افزایش سر خوردن چه مواردی را باید رعایت کرد؟

- الف. خودداری از ترمز شدید  
ب. رعایت فاصله با اتومبیل جلویی  
ج. حرکت با سرعت مناسب و مطمئنه  
د. تمام موارد
- پاسخ صحیح: د

۲. چرا باید در هنگام رانندگی توجه به جلو و اطراف داشته باشیم؟

- الف. خطرات احتمالی را پیش بینی کرده و زمان بیشتری برای واکنش داشته باشیم  
ب. برای سبقت گرفتن  
ج. برای داشتن دید کافی  
د. همه موارد
- پاسخ صحیح: الف

۳. در تقاطعها در چه فاصله ای توقف ممنوع است؟

- الف. ۱۰ متری  
ب. ۱۵ متری  
ج. ۲۰ متری  
د. ۲۵ متری
- پاسخ صحیح: ب

۴. موتورسواران نسبت به رانندگان اتومبیل آسیب پذیرترند برای اینکه؟

- الف. تغییرات سطح راه بر روی آنها تاثیر بیشتری دارد  
ب. نداشتن حفاظ مناسب  
ج. موارد الف و ب صحیح است  
د. با سرعت بیشتری پیچها را طی میکند
- پاسخ صحیح: ج

۵. کاربرد روش ۲ ثانیه در کجا بکار می رود؟

الف. تخمین فاصله با اتومبیل جلویی

ب. تخمین حداقل فاصله طولی ایمن

ج. حق تقدم ها

د. موارد ب و ج

پاسخ صحیح: الف

۶. میخهای زرد رنگ در وسط جاده به چه معنی است؟

الف. دست انداز


ب. خط ممتد

ج. خط مقطع

د. خط زیگزاک

پاسخ صحیح: ب

۷. در شکل مقابل چرا اتومبیل شماره ۲ میتواند سبقت بگیرد؟



الف. برای اینکه فاصله اش از وسیله نقلیه جلویی زاد است

ب. برای اینکه سمت چپ آن خط مقطع است

ج. برای اینکه سبقت آزاد است

د. موارد الف و ب

پاسخ صحیح: ب

۸. در تقاطعها هم عرض حق تقدم نسبت به چه وسیله نقلیه ای میباشد؟

الف. اتومبیلی که سریعتر حرکت میکند

ب. اتومبیلی که در خیابان پهن قرار دارد

ج. اتومبیلی که در حال گردش به راست است

د. اتومبیلی که در سمت راست قرار دارد

پاسخ صحیح: د

۹. مفهوم شکل زیر چیست؟



- الف. سمت راست بن بست  
ب. بن بست  
ج. خط عبور برای گریز  
د. تقاطع در ۱۰۰ متری
- پاسخ صحیح: ب

۱۰. مفهوم شکل زیر چیست؟



- الف. توقف در روزهای فرد هفته ممنوع  
ب. توقف در روزهای زوج هفته ممنوع  
ج. توقف مطلقا ممنوع  
د. توقف ممنوع
- پاسخ صحیح: الف

۱۱. مفهوم شکل زیر چیست؟



- الف. پایان منطقه بوق زدن ممنوع  
ب. پایان سبقت ممنوع  
ج. پایان تمام محدودیتها  
د. موارد الف و ب صحیح است
- پاسخ صحیح: ج

۱۲. مفهوم شکل زیر چیست؟



- الف. شیب سربالایی ۱۰ درصد  
ب. سرازیری خطرناک  
ج. سربالایی خطرناک  
د. شیب سرازیری ۱۰ درصد
- پاسخ صحیح: د

۱۳. مفهوم شکل زیر چیست؟



- الف. راه از راست باریک میشود  
ب. راه از چپ باریک میشود  
ج. جاده باریک میشود  
د. به پل نزدیک میشوید
- پاسخ صحیح: الف




۱۴. در محل تقاطع قصد دارید به سمت چپ گردش کنید ولی تصور میکنید که راهنمای شما به وضوح دیده نمیشود چکار میکنید؟

الف. با وجود روشن کردن راهنما با دست علامت میدهید  
 ب. پیاده شده و کنترل میکنید که حتما راهنما توسط سایرین دیده میشود  
 ج. در باند سمت چپ همچنان باقی میمانید  
 د. اتومبیل را کاملاً به سمت راست هدایت میکنید

پاسخ صحیح: الف

۱۵. مفهوم خط عرضی در شکل زیر چیست؟

الف. خط عرضی  
 ب. خط ممتد  
 ج. خط مخصوص عابر پیاده  
 د. خطوط هاشور



پاسخ صحیح: ج

۱۶. چگونه میتوان در سربالایی سبقت گرفت؟

الف. با استفاده از راهنما  
 ب. نور بالا و پایین  
 ج. بوق زدن  
 د. این کار ممنوع میباشد

پاسخ صحیح: د

۱۷. حداقل فاصله طولی ایمن در جاده های برف با سرعت ۴۵ کیلومتر .... طول ماشین است؟


الف. ۳  
 ب. ۶  
 ج. ۹  
 د. ۱۲

پاسخ صحیح: ج

۱۸. در کدام مورد باد لاستیک به اندازه است؟

الف. ۱  
 ب. ۲  
 ج. ۳  
 د. موارد الف و ج

پاسخ صحیح: ب



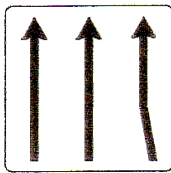
۱۹. مفهوم رنگ آبی در علائم عبور و مرور به چه معنی است؟

- الف. علائم دستوری و راهنمای مسیر در سایر راهها  
ب. مناطق اداری و آموزشی  
ج. راهنمای مسیر در آزادراهها  
د. راهنمای مسیر در بزرگراهها
- پاسخ صحیح: ج

۲۰. مفهوم شکل لوزی در علائم عبور و مرور به چه معنا نباشد؟

- الف. شروع و پایان حق تقدم مسیر  
ب. معمولا برای علائم راهنما  
ج. علامت دستوری و بازدارنده  
د. صرفا تابلوهای ایست
- پاسخ صحیح: الف

۲۱. نام تابلو مقابل چیست؟



- الف. کاهش خطوط عبور  
ب. افزایش خطوط عبور  
ج. خط ویژه عبور  
د. پیش انتخاب مسیر
- پاسخ صحیح: ب

۲۲. نام تابلو مقابل چیست؟




- الف. عبور معلولین آزاد  
ب. عبور معلولین ممنوع  
ج. محل عبور عابرین معلول  
د. راننده معلول
- پاسخ صحیح: د

۲۳. نام تابلو مقابل چیست؟




- الف. حق تقدم عبور  
ب. حداکثر سرعت در خطهای عبور  
ج. حداقل سرعت در خطهای عبور  
د. خط ویژه
- پاسخ صحیح: ب


۲۴. نام تابلو مقابل چیست؟

	الف. گذرگاه راه آهن	ب. تقاطع راه آهن با راهبند
	ج. تقاطع جاده با راه آهن	د. تقاطع با راه آهن
پاسخ صحیح: د		

۲۵. نام تابلو مقابل چیست؟

	الف. عبور چرخ دستی ممنوع	ب. اهرم
	ج. عبور عابر با چرخ دستی	د. عبور تریلی ممنوع
پاسخ صحیح: الف		

۲۶. نام تابلو مقابل چیست؟

	الف. عبور با زنجیر چرخ ممنوع	ب. عبور فقط با زنجیر چرخ
	ج. تعمیرگاه	د. منطقه کوهستانی
پاسخ صحیح: ب		

۲۷. کدام تابلو به معنی پارکینگ است؟

			
د.	ج.	ب.	الف.
پاسخ صحیح: د			

۲۸. مفهوم شکل زیر چیست؟



الف. گردش به چپ

ب. گردش به راست

ج. توقف

د. آهسته

پاسخ صحیح: الف

۲۹. مفهوم شکل زیر چیست؟



الف. حداقل فاصله دو اتومبیل ۷۰ متر میباشد

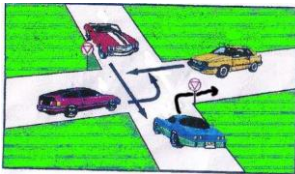
ب. حداکثر فاصله دو اتومبیل ۷۰ متر میباشد

ج. رعایت فاصله کمتر از ۷۰ متر ممنوع

د. رعایت فاصله بیشتر از ۷۰ متر ممنوع

پاسخ صحیح: ج

۳۰. در شکل زیر حق تقدم با کدام است؟



الف. زرد-قرمز-بنفش-آبی

ب. بنفش-زرد-آبی-قرمز

ج. زرد-بنفش-قرمز-آبی

د. آبی-زرد-بنفش-قرمز

پاسخ صحیح: ج

۱. برای کدام مورد زیر باید از چراغ هشداردهنده (فلاشر) استفاده کرد؟

الف. زمانیکه در منطقه پارک ممنوع توقف کرده اید. ب. زمانیکه اتومبیل شما دچار نقص فنی شده است

ج. زمانیکه میخواهید به ترافیک پشت سر خود در مورد خطر اطلاع دهد

د. موارد ب و ج

پاسخ صحیح: د

۲. ما بین شما و اتومبیل جلویی فاصله دو ثانیه ای مناسب خواهد بود چنانچه:

الف. هوا مه آلود باشد

ب. هوا مرطوب و جاده خیس باشد

ج. وضعیت راه خشک و هوا خوب باشد

د. هوا بارانی باشد

پاسخ صحیح: ج

۳. چراغ سبز را در جلوی خود مشاهده می کنید چراغ بعدی که روشن میشود چیست؟

الف. زرد و سبز با هم

ب. زرد

ج. قرمز

د. قرمز و زرد

پاسخ صحیح: ب

۴. روشن بودن چراغ زرد به چه معناست؟

الف. آماده ادامه مسیر باشید

ب. در پشت خط بایستید

ج. اگر افراد پیاده ای در حال عبور نباشند ادامه مسیر دهید

د. اگر راه باز باشد

پاسخ صحیح: ب

۵. چرا رانندگی در شب مشکل تر است؟

الف. وجود میدان دید طبیعی کمتر

ب. عدم تشخیص فاصله و سرعت وسایل نقلیه

ج. کم شدن تشخیص عابر پیاده

د. همه موارد

پاسخ صحیح: د

۶. برای استفاده از ترمز در حین رانندگی بهتر است ....

الف. پاها همواره آماده برای ترمز گرفتن باشد

ب. تمام کف پا را روی پدال ترمز قرار دهید

ج. پاشنه را روی کف اتومبیل گذاشته و با پنجه پدال ترمز را فشار دهید

د. با کف پا ترمز را به آهستگی فشار داده و همزمان کلاچ بگیرید

پاسخ صحیح: ج

۷. برای روشن کردن اتومبیل اولین کاری که باید انجام شود چیست؟

الف. خلاص کردن دنده، تنظیم صندلی، بستن کمربند، روشن کردن

ب. تنظیم آینه ها، خلاص کردن دنده و روشن کردن

ج. گرفتن کلاچ با پای چپ

د. هیچکدام

پاسخ صحیح: ج

۸. در آزادراهها میخهای زرد چشم گربه ای در چه محلی دیده می شود؟

الف. در باند کاهش و افزایش سرعت

ب. بین شانه خاکی و باند اصلی

ج. بین هر دو باند

د. غالبا در مسیر رفت و برگشت جاده ها و در سمت چپ مسیر

پاسخ صحیح: د

۹. تنظیم صندلی برای چیست؟

الف. تسلط به فرمان - پدالهای گاز، ترمز و کلاچ و دنده

ب. میدان دید طبیعی

ج. گزینه الف و ب

د. هیچکدام

پاسخ صحیح: ج

۱۰. منظور از خط زیگزاگ در حاشیه ی خیابان چیست؟

الف. مخصوص توقف اتومبیل	ب. توقف کوتاه آزاد است
ج. ایستادن و عبور کردن از روی آن ممنوع	د. گزینه الف و ب
پاسخ صحیح: ج	

۱۱. هنگامیکه پلیس راهنمایی دست خود را از موازات نشانه پایین و بالا برد به معنی اینست؟

الف. رانندگان با سرعت عبور کنند	ب. رانندگان بایستند
ج. رانندگان وسیله نقلیه در حال حرکت از سرعت خود بکاهند	د. بعد عبور در پشت آن بایستند
پاسخ صحیح: ج	

۱۲. کدامیک از موارد نقص فنی محسوب نمی شود؟

الف. دود کردن موتور	ب. نداشتن چراغهای جلو و عقب
ج. کم بودن باد لاستیک	د. نداشتن برف پاک کن در رانندگی
پاسخ صحیح: ج	

۱۳. در چه فاصله ای از ورودی یا خروجی مراکز آتش نشانی، پلیس و بیمارستان ها توقف ممنوع است؟

الف. ۵متری	ب. ۲۰متری	ج. ۱۵ متری	د. ۷۰ متری
پاسخ صحیح: ج			

۱۴. هوای گرم بر کدام قسمت از خودرو و اثر می گذارد؟

الف. سیستم فنر بندی- ترمز	ب. ترمز دستی
ج. باد لاستیک و دمای موتور	د. چرخهای جلو- کلاچ
پاسخ صحیح: ج	

۱۵. چه زمانی می توانید از تلفن همراه در رانندگی استفاده کنید؟

الف. فرمان را با یک دست بگیرید و اتومبیل را هدایت کنید

ب. استفاده از تلفن همراه حین رانندگی ممنوع است

ج. فرمان را با یک دست بگیرید و اتومبیل را هدایت کنید

د. نیاز به انجام یک تلفن اضطراری باشد

پاسخ صحیح: ب

۱۶. کدام مورد است که به هنگام سبقت گرفتن از آنها باید فضای بیشتری را برای وسیله نقلیه در نظر گرفت؟

الف. تراکتور      ب. موتور سیکلت- دوچرخه      ج. جرثقیل      د. ماشین های مجاور

پاسخ صحیح: ب

۱۷. شما با سرعت ۴۵ کیلومتر در ساعت در یک جاده مرطوب در حال رانندگی هستید، فاصله شما با اتومبیل جلویی چند طول اتومبیل باید باشد؟

الف. ۴ طول اتومبیل      ب. ۲ طول اتومبیل      ج. ۶ طول اتومبیل      د. ۵ طول اتومبیل

پاسخ صحیح: ج

۱۸. در صورت زرد شدن چراغ راهنمایی در وسز تقاطع ....؟

الف. متوقف می شوید      ب. برای تخلیه تقاطع به راه خود ادامه می دهید

ج. بلافاصله ترمز کرده، با دنده عقب در پشت خط عابر متوقف می شوید

د. بدون رعایت حق تقدم می توان عبور کرد

پاسخ صحیح: ب



۱۹. شما در هنگام رانندگی در شهر مجارز هستید حداکثر سرعتی معادل:

الف. ۶۰ کیلومتر در خیابانهای شریانی اصلی ۵۰ کیلومتر در خیابانهای شریانی فرعی ۲۰ کیلومتر معابر محلی

ب. ۶۰ کیلومتر در خیابانهای شریانی اصلی ۵۰ کیلومتر در خیابانهای شریانی فرعی ۳۰ کیلومتر معابر محلی

ج. ۵۰ کیلومتر در خیابانهای شریانی اصلی ۵۰ کیلومتر در خیابانهای شریانی فرعی ۳۰ کیلومتر معابر محلی

د. ۶۰ کیلومتر در خیابانهای شریانی اصلی ۴۰ کیلومتر در خیابانهای شریانی فرعی ۲۰ کیلومتر معابر محلی

پاسخ صحیح: ب

۲۰. کاربرد روش دو ثانیه برای چیست؟

الف. محاسبه زمان  
ب. تخمین مسافت با وسیله جلوئی  
ج. تست موتور  
د. مورد الف و ب

پاسخ صحیح: ب

۲۱. حداکثر سرعت در جادههای اصلی:

الف. روز ۶۰ کیلومتر - شب ۸۵ کیلومتر  
ب. روز ۹۵ کیلومتر - شب ۸۵ کیلومتر

ج. روز ۸۰ کیلومتر - شب ۹۰ کیلومتر  
د. روز ۸۵ کیلومتر - شب ۹۵ کیلومتر

پاسخ صحیح: ب

۲۲. مهمترین عامل تصادفات رانندگی با اتومبیل جلوئی چیست؟

الف. شرایط جاده  
ب. شرایط آب و هوایی

ج. عدم توجه کافی به راه - نزدیک شدن بیش از حد به اتومبیل جلوئی  
د. مسائل مکانیکی

پاسخ صحیح: ج